































Naam:

- Ananas: 15 punten
- Kersen: 23 punten
- Passievrucht: 18 punten
- Bananen: 9 punten
- Kokosnoot: 10 punten
- Druiven: 47 punten
- Watermeloen: 19 punten
- Appel: 36 punten



Hoeveel punten samen?

  =	  =	  =
  =	  =	  =
  =	  =	  =
  =	  =	  =
  =	  =	  =